

CHÀO MỪNG QUÝ THẦY CÔ VỀ DỰ GIỜ THĂM LỚP 3D

Môn: TOÁN

Giáo viên: Phạm Thị Thanh Trúc

Lớp: 3D

Ngày 29/4/2025



Toán

**Luyện tập
chung (tiết 2)**

A




B



C

B



A



B

Các bạn ơi nobita không chịu làm bài tập ,cậu ấy sẽ đổ mình vài câu hỏi các bạn hãy giúp mình trả lời các câu hỏi nhé nếu như các bạn trả lời đúng 3 câu hỏi cậu ấy sẽ làm bài tập



C

B



A


1

KHỞI ĐỘNG



B

C



B

A



B



Câu 1 : 6 000 : 3

2000



3000

C

B





A

B



Câu 2 : $9\ 000 \times 9$

80 000

81 000



C

B





A

B



Câu 2 : $8\ 000 \times 9$

9 000

72 000



C

B



A

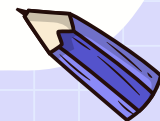
2

B

Luyện tập!

C

B

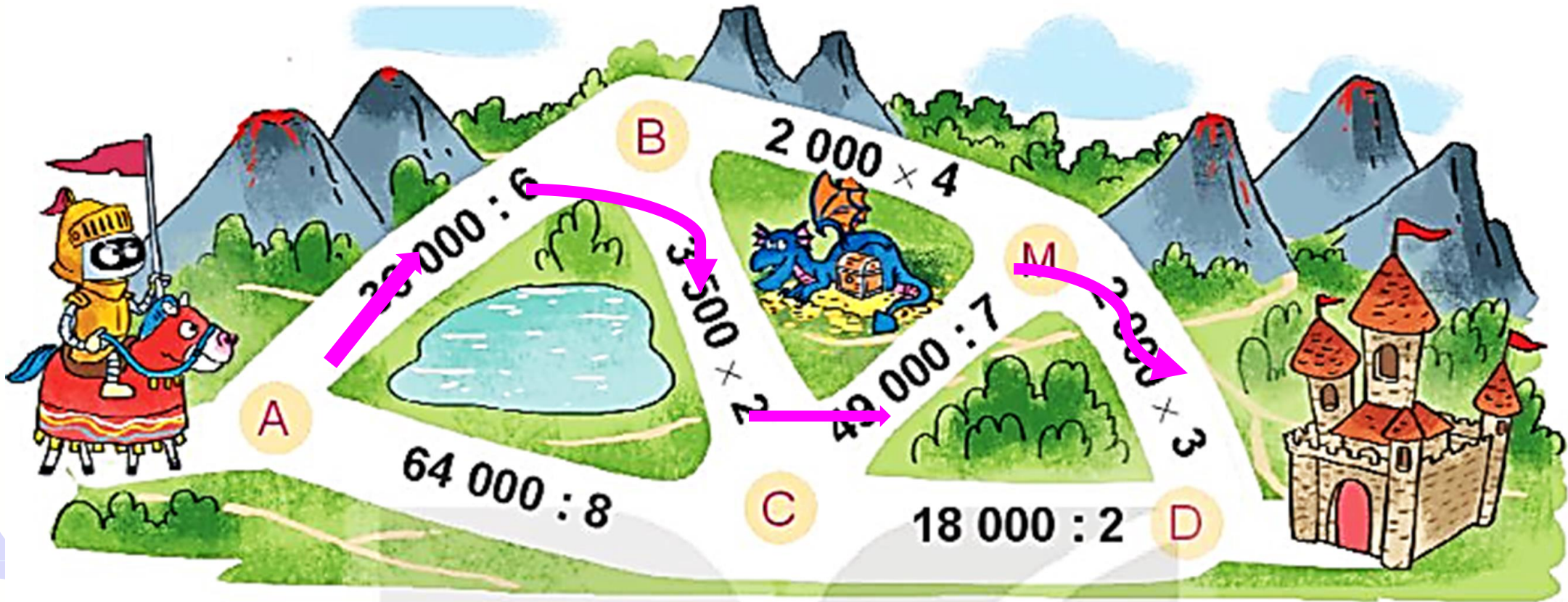


A



1 B

Để đến tòa lâu đài, Rô-bốt phải đi qua các đoạn đường ghi phép tính có kết quả bé hơn 8 000. Hỏi Rô-bốt phải đi theo đường nào?



C



B

A



B

2 Đặt tính rồi tính.

$$\begin{array}{r}
 57\ 364 : 6 \\
 \underline{3\ 3} \\
 36 \\
 \underline{04} \\
 4
 \end{array}$$

$$\begin{array}{r}
 8\ 024 \times 3 \\
 \underline{3} \\
 24\ 072
 \end{array}$$

$$\begin{array}{r}
 13\ 104 \times 7 \\
 \underline{7} \\
 91\ 728
 \end{array}$$

$$\begin{array}{r}
 48\ 560 : 5 \\
 \underline{3\ 5} \\
 06 \\
 \underline{10} \\
 0
 \end{array}$$

C

B





A

3

Tính giá trị biểu thức

$$\text{a) } 7\,479 + 3\,204 \times 5 = 7\,479 + 16\,020 = 23\,499$$

$$\text{b) } (24\,516 - 4\,107) : 3 = 20\,409 : 3 = 6\,803$$

$$\text{c) } 14\,738 + 460 + 3\,240 = 15\,198 + 3\,240 = 18\,438$$

$$\text{d) } 9\,015 \times 3 \times 2 = 27\,045 \times 2 = 54\,090$$

C

B



A

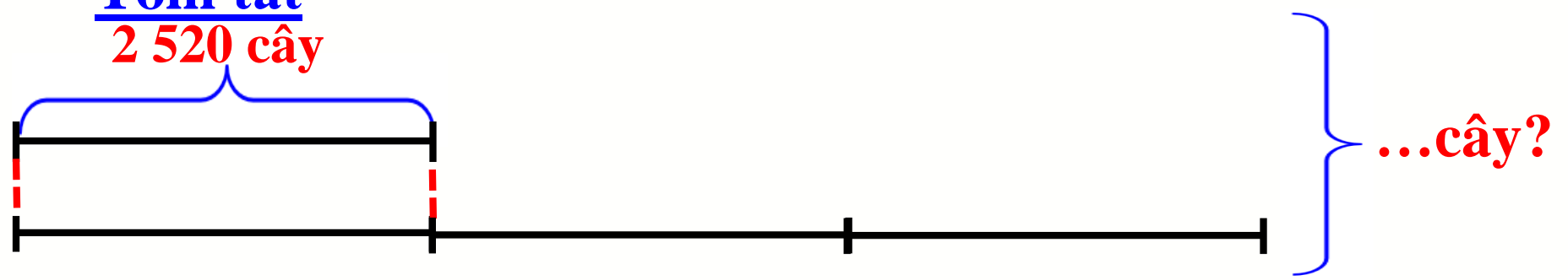


B

4 Một nông trường có 2 520 cây chanh, số cây cam gấp 3 lần số cây chanh. Hỏi nông trường đó có tất cả bao nhiêu cây chanh và cây cam?

Tóm tắt
2 520 cây

Cây chanh
Cây cam



Bài giải

Nông trường có số cây cam là:

$$2\ 520 \times 3 = 7\ 560 \text{ (cây)}$$

Nông trường có tất cả số cây chanh và cây cam là:

$$2\ 520 + 7\ 560 = 10\ 080 \text{ (cây)}$$

Đáp số: 10 080 cây

C



B



A

5

Số ?

$$\begin{array}{r} 10521 \\ \times \quad 9 \\ \hline 94689 \end{array}$$

C



B

Cảm Ơn các
bạn



**TẠM BIỆT
HẸN GẶP LẠI**



A

B

C

B